

fiche 8

LE DÉPLACEMENT DU ROI

1. Trace un rond bleu sur les cases où le Roi blanc a le droit de se déplacer (Diagrammes 1, 2, 3).
2. Trace le trajet du Roi blanc pour capturer le Cavalier noir (Diagrammes 4, 5, 6).

Diagramme n° 1

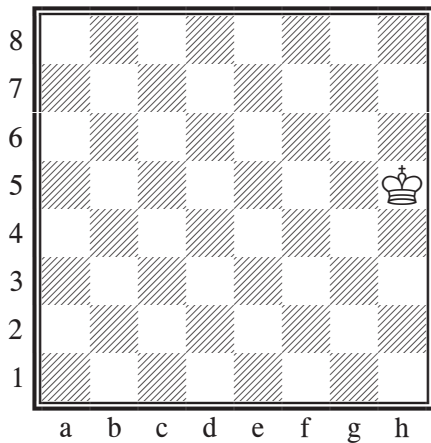


Diagramme n° 4




Diagramme n° 2

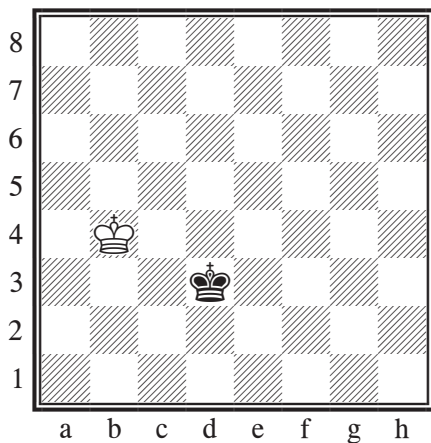


Diagramme n° 5




Diagramme n° 3

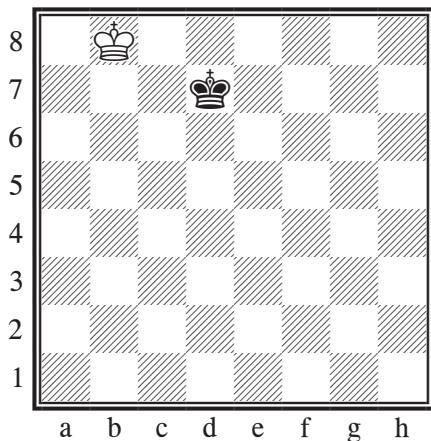


Diagramme n° 6

