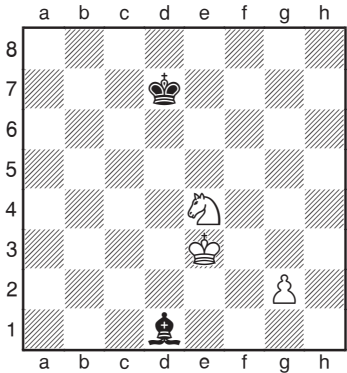
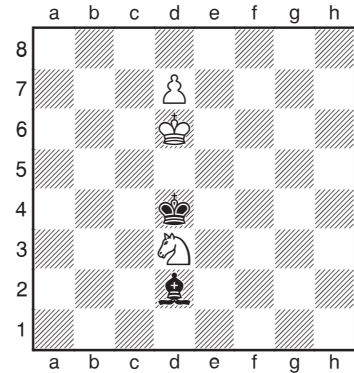


49




Comment les Blancs gagnent-ils ?

50




Les Noirs devraient-ils jouer 1...♙a5 ou 1...♙g5 ?

51




Quel plan est correct : 1.♙c4 pour jouer ♙g8 et ♙xh7, ou 1.♙e5 pour se diriger vers g7 ?

52




Trouve le coup gagnant pour les Blancs.

53



Quel est le meilleur coup pour les Blancs ?


54



Un des deux camps est-il gagnant, ou la position est-elle nulle ?


### Ça se corse un peu

55



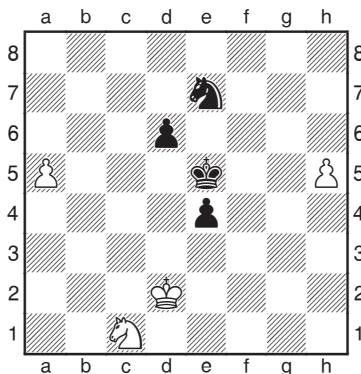
Quel est le coup correct : 1.c8♚, 1.♘c3 ou 1.♘b4 ?

56




Les Noirs peuvent-ils sauver la partie par 1... ♘d5 ?

57




Les deux camps ont deux pions passés. Qui a l'avantage et pourquoi ?

58




Quel est le meilleur coup : 1.b5, 1.e6 ou 1.♔g5 ?

59



Trouve le coup gagnant pour les Blancs.

60



Les Blancs devraient-ils jouer 1.f5, 1.♔e4 ou 1.♘f2 ?